

१. सामान्यज्ञान (General Knowledge) ----- (३० × २) = ६० अङ्क

१. समूह 'I' र समूह 'II' बीच जोडा मिलाई कोडबाट सही उत्तर छान्नुहोस्।

समूह I

- (a) दुधमती  
(b) घाँघरा  
(c) एउटै नामले दुईतीर बग्ने नदी  
(d) महाकाली  
(क) a-2, b-1, c-4, d-3  
(ग) a-1, b-4, c-3, d-4

समूह II

- (1) कर्णाली  
(2) पूर्वी राप्ती  
(3) लिपुलेक  
(4) राप्ती  
(ख) a-3, b-2, c-1, d-4  
(घ) a-4, b-3, c-2, d-1

२. ६ महिना जंगल र ६ महिना बस्तीमा बस्ने जाति कुन हो ?

- (क) राउटे (ख) हायु (ग) वनकरिया (घ) लेप्चा

३. फ्रान्सको राज्यक्रान्तिलाई अर्को के नामले चिनिन्छ ?

- (क) Knowledge Revolution (ख) Liberty Revolution  
(ग) Equality Revolution (घ) Intellectual Revolution

४. पृथ्वी बाट देखिने सबैभन्दा चम्किलो तारा कुन हो ?

- (क) ध्रुवतारा (ख) चित्रा (ग) लुब्धक (घ) सिरिअस

५. समूह 'I' र समूह 'II' बीच जोडा मिलाई कोडबाट सही उत्तर छान्नुहोस्।

समूह I

- (1) युरोप  
(2) अफ्रिका  
(3) अष्ट्रेलिया  
(4) अन्टार्कटिका

- (क) 1-b, 2-c, 3-d, 4-a (ख) 1-c, 2-b, 3-a, 4-d  
(ग) 1-d, 2-a, 3-b, 4-c (घ) 1-a, 2-d, 3-c, 4-b

समूह II

- (a) अष्ट्रेलिया (Australia)  
(b) उत्तर अमेरिका (North America)  
(c) अफ्रिका (Africa)  
(d) एशिया (Asia)

६. शान्त प्रातः कालको देश भनेर कुन देशलाई चिनिन्छ ?

- (क) दक्षिण कोरिया (ख) थाइल्याण्ड (ग) क्यानडा (घ) लाओस

७. तलका भनाई मनन गर्नुहोस्।

- (१) कोशी नदी नेपालको सबैभन्दा लामो नदी हो।  
(२) रोल्वालिङ हिमश्रृंखला नेपालको दोलखा जिल्लामा पर्दछ।  
(३) रामेछापको ठासे फलाम खानीको लागि प्रसिद्ध छ।

मथिका भनाईहरू मध्ये सही/गलत छुट्याउनुहोस्।

- (क) १, २ र ३ सबै ठीक (ख) १ र २ ठीक ३ बेठीक  
(ग) २ र ३ ठीक १ बेठीक (घ) १, २ र ३ सबै बेठीक

८. यदि 'ADEMR' अक्षर अरुबाट एक मात्र अर्थपूर्ण शब्द बनाउन सम्भव हुन्छ भने कुन अक्षर अगाडि बाट दोस्रो स्थानमा आउँछ ? यदि ती अक्षरहरूबाट एक भन्दा बढी अर्थपूर्ण शब्दहरू बन्दछन् भने 'Y' उत्तर दिनुहोस्। यदि ती अक्षरहरूबाट कुनै अर्थपूर्ण शब्द बाउन सकिँदैन भने 'X' उत्तर दिनुहोस्।

- (क) E (ख) R (ग) Y (घ) X

९. यदि "कठिनाइ" शब्द "सुविधा" सँग सम्बन्धित छ भने "दुःख" को सम्बन्ध के सँग छ ?

- (क) शोक (ख) पीडा (ग) हाँसो (घ) सुख

१०. यदि कुनै भाषामा water लाई black, black लाई tree, tree लाई white, white लाई blue र blue लाई milk भनिन्छ भने त्यो भाषामा दुधको रङ्गलाई के जनाइन्छ ?  
 (क) Black (ख) Blue (ग) Tree (घ) White
११. सगरमाथाको चुचुरोमा पुग्ने विश्वका प्रथम पत्रकार को हुन् ?  
 (क) स्टाइन एशिम (ख) क्यारोस पिटाज (ग) टम हिवट्याकर (घ) एण्टाइन एरिक
१२. तलका भनाई विचार गर्नुहोस् ?  
 (१) राणाहरूलाई A, B र C वर्गमा चन्द्र शमशेरले विभाजन गरेका थिए ।  
 (२) A र B श्रेणीका राणाले मात्र प्रधानमन्त्रीको पद पाउँथे ।  
 (३) C श्रेणीका राणाहरू काठमाडौंमा बस्न पाउँदैनथे ।  
 (४) रुन्चे प्रधानमन्त्री भनेर पद्म शमशेरलाई भनिन्थ्यो ।  
 माथिका भनाईहरू मध्ये सही भनाई कुन हो/हुन् ?  
 (क) १ र ४ मात्र (ख) १ मात्र (ग) १ र ३ मात्र (घ) ३ र ४ मात्र
१३. लिच्छविकालमा 'युक्त पुरुष' भनेर कस्तो पदधारण गरेको व्यक्तिलाई मानिन्थ्यो ?  
 (क) घोडा स्वारी प्रमुख (ख) राज प्रासादको भान्साघरको व्यवस्थापक  
 (ग) युद्धमा प्राप्त हुन आएको सम्पत्तिको हिसाव राख्ने लेखापाल (घ) माथिको सबै बेठीक
१४. एक जना मान्छे आफ्नो घरबाट बीस (20) मिटर पश्चिम दिशामा हिंड्यो त्यसपछि दक्षिण फर्केर चालीस (40) मिटर हिंड्यो । फेरी उ बायाँ फर्केर चालीस (40) मिटर हिंड्यो र अन्त्यमा उ पुनः बायाँ फर्केर चालीस (40) मिटर हिंड्यो भने उ आफ्नो घरबाट कति मिटर टाढा कुन दिशामा थियो ?  
 (क) 80 m South-East (ख) 20 m East (ग) 0 m North-East (घ) 80 m South
१५. प्रश्न चिन्ह (?) लागेको स्थानमा उपयुक्त हुने अक्षर तल दिइएको विकल्प मध्येबाट छान्नुहोस् ।  
 JE, LH, OL, SQ, ?  
 (क) WV (ख) WX (ग) VW (घ) XW
१६. समूह 'I' र समूह 'II' बीच जोडा मिलाई कोडबाट सही उत्तर छान्नुहोस् ।
- | समूह I                  | समूह II                |
|-------------------------|------------------------|
| (a) लोपोन्मुख समूह      | (1) कुमाल              |
| (b) अति सीमान्तकृत समूह | (2) याक्खा             |
| (c) सीमान्तकृत समूह     | (3) राजी               |
| (d) सुविधा वन्चित समूह  | (4) माझी               |
| (क) a-2, b-1, c-4, d-3  | (ख) a-4, b-3, c-1, d-2 |
| (ग) a-3, b-4, c-1, d-2  | (घ) a-2, b-3, c-4, d-1 |
१७. लामोसाँघु-रामेछाप सडक खण्डको नाम निम्न मध्ये कुन हो ?  
 (क) बालकृष्ण सम मार्ग (ख) पुष्पलाल मार्ग (ग) मनमोहन मार्ग (घ) सिद्धिचरण मार्ग
१८. तलकामध्ये कुनचाहिँ वाणिज्य नीति, २०७२ मा समाविष्ट रणनीति होइन ?  
 (क) आपूर्तिजन्य क्षमता सुदृढीकरण गर्दै व्यापार घाटा कम गर्ने ।  
 (ख) निर्यातजन्य सेवा क्षेत्रहरूको प्रतिस्पर्धा क्षमता अभिवृद्धि गर्ने ।  
 (ग) व्यापार सहजीकरण तथा संस्थागत सुदृढीकरणको माध्यमबाट कारोबार लागत घटाउने ।  
 (घ) पर्यटन व्यवसाय फस्टाउने ।
१९. कुनै गोठमा एक लहर गाईवस्तु बाँधिएका छन् । कालो रंगको गाई अगाडिबाट सातौँ र खैरो रंगको गाई पछाडिबाट एघारौँमा पर्दछ । ती बाहेक उक्त गोठमा अरु ३२ वटा गाईवस्तु छन् भने तिनीहरूको बीचमा अरु कती गाईवस्तु होलान् ?  
 (क) 14 (ख) 16 (ग) 18 (घ) None of the above
२०. बौद्ध धर्मका अष्टाङ्गिक मार्गमध्ये तलको कुन होइन ?  
 (क) सम्यक दृष्टि (ख) सम्यक जीवन (ग) सम्यक वाचा (घ) सम्यक प्राप्ति

२१. तलका भनाई मध्ये गलत भनाइ कुन हो ?

- (क) विलास मन्दिर भन्नाले पाटनको कृष्ण मन्दिरलाई बुझाउँछ ।  
(ख) नेपालको पहिलो पटचित्र भैरवानन्द हो ।  
(ग) प्यागोडा शैली जापानबाट आएको हो ।  
(घ) नारायणहिटी दरवारका डिजाइनर कुमारनरसिंह राणा हुन् ।

२२. तलका भनाई सत्य वा असत्य छुट्याउनुहोस् ?

- (१) नेपालमा अपाङ्गता भएका जनसंख्या मध्ये 36.3 प्रतिशत शारीरिक रूपले अपाङ्ग छन् ।  
(२) नेपालका दुई जिल्ला सदरमुकाममा अझ सडक पुगेको छैन ।  
(क) १ सत्य २ असत्य (ख) १ र २ दुवै असत्य  
(ग) २ सत्य १ असत्य (घ) १ र २ दुवै सत्य

२३. समूह 'I' र समूह 'II' बीच जोडा मिलाई कोडबाट सही उत्तर छान्नुहोस् ।

समूह I

समूह II

- (a) थामे जलविद्युत आयोजना (1) 22100 Kw  
(b) चिलिमे जलविद्युत आयोजना (2) 600 Kw  
(c) पुवाखोला जलविद्युत आयोजना (3) 60000 Kw  
(d) खिन्तीखोला जलविद्युत आयोजना (4) 6200 Kw  
(क) a-3, b-2, c-4, d-1 (ख) a-2, b-1, c-4, d-3  
(ग) a-1, b-3, c-2, d-4 (घ) a-4, b-3, c-1, d-2

२४. दिइएका विकल्पहरू मध्येबाट छोडिएका संख्या पत्ता लगाउनुहोस् ?

29	13	18
33	?	19
30	27	3

- (क) 8 (ख) 12 (ग) 14 (घ) 15

२५. एउटा संस्थामा रहेका सबै कर्मचारीहरू मध्ये ७० प्रतिशत पुरुष र बाँकी महिला छन् । यदि महिला कर्मचारीहरूको जम्मा संख्या ४५ रहेको छ भने त्यो संस्थामा कतिजना पुरुष कर्मचारी छन् होला ?

- (क) 105 (ख) 115 (ग) 95 (घ) 108

२६. यदि ६ जना व्यक्तिले मिलेर ५० बटा मिल्दोजुल्दो काम ४ घण्टामा सकछन् भने १० जना व्यक्तिले ६ घण्टा काम गरेमा कतिबटा सोही प्रकारका मिल्दोजुल्दो काम सकलान् ?

- (क) 20 (ख) 125 (ग) 100 (घ) 60

२७. 'Sulphone Therapy' को प्रयोग के को उपचारमा गरिन्छ ?

- (क) कलेजो प्रत्यारोपण (ख) मृगौला (ग) क्यान्सर (घ) कुष्ठरोग

२८. Email का आविष्कारक को हुन् ?

- (क) Francis Galton (ख) Ray Tomlinson (ग) Tim Burners Lee (घ) Gavor Baths

२९. भूटो पत्ता लगाउन प्रयोग गरिने यन्त्रको नाम के हो ?

- (क) Seismograph (ख) Polygraph (ग) Phedometer (घ) None of the above

३०. निम्नलिखित क्रममा प्रश्नचिन्ह (?) राखिएको ठाउँमा के आउँछ ?

1, 2, 5, 12, 29, (?)

- (क) 70 (ख) 68 (ग) 64 (घ) 63

२. सामान्य बौद्धिक परीक्षण  $(२० \times २) = ४०$  अङ्क

३१. तीन व्यक्तिहरू एकसाथ हिंडन शुरु गर्दछन् र तिनीहरूको पाइलाको नाप क्रमशः ३६ सेमी, ४२ सेमी र ४९ सेमी छ प्रत्येक व्यक्तिहरूले पूर्ण पाइलाहरूमा समान दुरी पार गर्न क्रमि न्यूनतम दूरी हिंड्नु पर्छ ?

- (B) 4m 41cm (B) 8m 82cm (C) 171m 64cm (D) 35m 28cm

३२. कुनै मानिसको दुई हप्ताको स्वास्थ्य परीक्षणको दौरानमा उसलाई ११ दिन विहान वा साँझमा ज्वरो आएको पाइयो । जब उसलाई साँझमा ज्वरो आयो भने त्यस दिन विहान ज्वरो नआएको पाइयो । उसलाई ९ दिन साँझमा ज्वरो आयो भने विहान ज्वरो नआएको दिन कती थियो ?

(B) 3 (B) 5 (C) 11 (D) 12

३३. एउटा जुत्ता रु ९६० मा बेच्दा जति प्रतिशत नाफा हुन्छ, सोही जुत्ता रु ६४० मा बेच्दा त्यती प्रतिशत नोक्सान हुन्छ । सो जुत्ताको खरिद मूल्य कति होला ?

(C) 700 (B) 800 (C) 750 (D) 850

३४. तलका भनाई विचार गर्नुहोस् ।

(१) प्रत्येक वर्षको फ्रेब्रुअरी २ लाई विश्व सिमसार दिवसको रूपमा मनाइन्छ ।

(२) रामसार महासन्धिमा लागि नेपालको तर्फबाट प्रशासकीय अख्तियारी प्राप्त निकाय राष्ट्रिय निकुञ्ज तथा वन्यजन्तु संरक्षण विभाग हो ।

(३) नेपालको बीसहजारी ताल रामसार सूचीमा सूचीकृत रहेको छ ।

(४) डिसेम्बर १७, १९८७ मा नेपालले रामसार महासन्धिमा हस्ताक्षर गरेको थियो ।

माथिका भनाई मध्ये सही भनाई कुन हो/हुन् ?

(क) १ र २ मात्र (ख) १, २ र ३ मात्र

(ग) १ र ४ मात्र (घ) १, २, ३ र ४ सबै

३५. निम्न देशका वारेमा विचार गर्नुहोस् ।

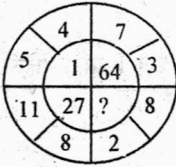
(१) चीन (२) अफगानिस्तान (३) माल्दिभ्स

माथि उल्लिखित राष्ट्र मध्ये ICIMOD का सदस्य राष्ट्र कुन हो/हुन् ?

(क) १ मात्र (ख) १ र २ मात्र

(ग) १ र ३ मात्र (घ) २ र ३ मात्र

३६. तल दिइएका चित्रमा (?) भएको गाउँमा निम्न A, B, C र D मध्येबाट कुन संख्या उपयुक्त हुन्छ रोज्नुहोस् ।



(क) 0 (ख) 8 (ग) 25 (घ) 216

३७. UNEP (United Nations Environment Program) को स्थापना कहिले भएको थियो ?

(क) 1971 AD (ख) 1972 AD


(ग) 1973 AD (घ) 1974 AD

३८. तल दिइएका चित्रहरूमध्ये कुन एउटा अरुभन्दा फरक छ ।



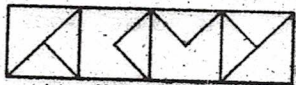
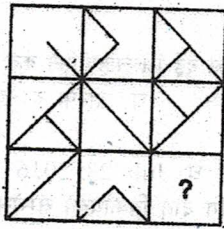
(क) (ख) (ग) (घ)

३९. तल दिइएको चित्रमा कुल वर्गको संख्या कति छ पत्ता लगाउनुहोस् ।



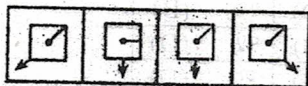
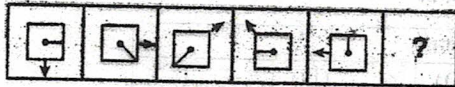
(क) 110 (ख) 128 (ग) 144 (घ) 168

४०. दिइएको मेट्रिक्स पुरा गर्नुहोस् ।



(A) (B) (C) (D)

४१. तल उल्लेखित पहिलो लहरमा बायाँदेखि दायाँका चित्रहरू निश्चित नियम अनुसार क्रमबद्ध रूपमा रहेका छन् । यसै नियम अनुसार दोस्रो लहरको कुन चित्रले पहिलो लहरको प्रश्न चिन्ह (?) भएको चित्रलाई प्रतिस्थापन गर्छ ?



(A) (B) (C) (D)

४२. तल दिइएका समस्या खण्डका दुई चित्रहरू एक आपसमा कुनै न कुनै प्रकारले सम्बन्धित छन् । त्यस्तै गरी उत्तर खण्डका चित्रहरू A, B, C र D मध्ये एक चित्र त्यस्तै रूपमा प्रश्न खण्डका चित्रहरूसित समान छन् । त्यो चित्र कुन हो ? पत्ता लगाउनुहोस् ।

Problem figure

Answer figure



(A) (B) (C) (D)

४३. तल दिइएको डायग्रामलाई-दिइएकामध्ये कुन विकल्पले प्रतिनिधित्व गर्दछ ।



- (a) Rose, Flower and Lotus (b) Girls, Human and Singer  
(c) Human, Animal and Plant (d) Students, Singers and Players

४४. तलका मध्ये कुन आसियानको सदस्य राष्ट्र होइन ?

- (क) मलेशिया (ख) म्यानमार (ग) श्रीलंका (घ) वुनाई

४५. एसियाली पूर्वाधार लगानी बैंक Asian Infrastructure Investment Bank (AIIB) को बारेमा तलका भनाई विचार गर्नुहोस् ।

- (१) बैंकमा चीनको सबैभन्दा बढी शेयर लगानी छ ।  
(२) बैंक सन् २०१५ को अक्टोबर देखि संचालनमा आएको छ ।  
(३) नेपाल, बैंकको संस्थापक सदस्य राष्ट्र हो ।

माथिका भनाइका आधारमा सही उत्तर छनौट गर्नुहोस् ।

- (क) १, २ र ३ सबै ठीक (ख) १ र २ ठीक ३ बेठीक  
(ग) २ र ३ ठीक १ बेठीक (घ) १ र ३ ठीक २ बेठीक

४६. काठमाडौँको शाहिदगेटका चार सहिदको मूर्ति कुन कलाकारले बनाएका हुन् ?

- (क) शैलेन्द्र मास्के (ख) न्हुच्छेमान प्रधान (ग) रत्नवहादुर तुलाधर (घ) रविन सायमी

४७. 'ज्याक' कुन खेलसँग सम्बन्धित छ ?

(क) फुटबल (ख) हकी (ग) आइस हकी (घ) क्रिकेट

४८. चालु आ.व. को बजेटद्वारा हाई अल्टिच्युड स्पोर्ट्स स्टेडियम निर्माणका लागि चयन गरिएका दुई जिल्लाहरू कुन कुन हुन् ?

(क) मनाङ र मुस्ताङ (ख) मुस्ताङ र सोलुखुम्बु (ग) मनाङ र सोलुखुम्बु (घ) डोल्पा र जुम्ला

४९. बेलायतमा युरोपियन युनियन सम्बन्धी जनमत संग्रह (Brexit) कहिले भएको थियो ?

(क) April 23, 2016 (ख) May 23, 2016 (ग) June 23, 2016 (घ) July 23, 2016

५०. नेपालमा २०७२ वैशाख १२ मा आएको विनाशकारी भूकम्प पछिको पुनर्निर्माणका लागि दातृ निकायको सम्मेलन कहिले भएको थियो ?

(क) ३० जेठ २०७२ (ख) १ असार २०७२ (ग) ७ असार २०७२ (घ) १० असार २०७२

### उत्तर कुञ्जिका

सामान्य ज्ञान					
१. (A)	२. (A)	३. (D)	४. (D)	५. (C)	
६. (A)	७. (C)	८. (C)	९. (D)	१०. (B)	
११. (A)	१२. (A)	१३. (C)	१४. (B)	१५. (D)	
१६. (B)	१७. (B)	१८. (D)	१९. (B)	२०. (D)	
२१. (D)	२२. (D)	२३. (B)	२४. (A)	२५. (A)	
२६. (B)	२७. (D)	२८. (B)	२९. (B)	३०. (A)	
सामान्य बौद्धिक परीक्षण					
३१. (C)	३२. (D)	३३. (B)	३४. (D)	३५. (B)	
३६. (D)	३७. (B)	३८. (B)	३९. (D)	४०. (D)	
४१. (C)	४२. (C)	४३. (D)	४४. (C)	४५. (D)	
४६. (C)	४७. (D)	४८. (B)	४९. (C)	५०. (D)	