

41. सिमेन्टको मुख्य कच्चा पदार्थ कुन हो ?  
 (A) बालुवा (B) काठ (C) माटो (D) चुनदुश
42. नेपालमा राष्ट्रिय विज्ञान दिवस कुन दिनमा मनाइन्छ ?  
 (A) वैशाख १ गते (B) श्रावण १ गते  
 (C) कार्तिक १ गते (D) आश्विन १ गते
43. तलकामध्ये कुन चीजको आविष्कारक अल्फ्रेड नोबेल हुन् ?  
 (A) एटम बम (B) डाइनामाइट (C) जिलेटिन (D) युरेनियम
44. जोडा मिलाएर कोडका आधारमा सही उत्तर छान्नुहोस् ।

**समूह I**

- a. कन्ट्याक्ट लेन्स  
 b. एक्सरे  
 c. एन्टीरेबिज भ्याक्सिन  
 d. इन्सुलिन

**समूह II**

1. लुई पाश्चर  
 2. फ्रेडरिक बेनन्टिड  
 3. ए.ई. फिन्क  
 4. विलियम रन्टजेन

	a	b	c	d
(A)	3	4	1	2
(B)	1	2	3	4
(C)	3	1	4	2
(D)	2	3	1	4

45. ठीक बेठीक छुट्याउनुहोस् ।  
 1. महान वैज्ञानिक सर आइज्याक न्यूटनको जन्म बेलायतमा भएको थियो ।  
 2. अन्तरिक्षमा प्रवेश गर्ने पहिलो राष्ट्र संयुक्त राज्य अमेरिका हो ।  
 (A) दुवै ठीक (B) दुवै बेठीक  
 (C) 1 ठीक 2 बेठीक (D) 1 बेठीक 2 ठीक
46. सार्क शिखर सम्मेलनमा पर्यवेक्षक नभएको मुलुक कुन हो ?  
 (A) अष्ट्रेलिया (B) संयुक्त राज्य अमेरिका  
 (C) रुस (D) चीन
47. समूह I (तत्व) र समूह II (मानव शरीरका काम) मा जोडा मिलाउनुहोस् र कोडबाट सही उत्तर छान्नुहोस् ।

**समूह I (तत्व)**

- a. आयोडिन  
 b. आइरन  
 c. क्याल्सियम

**समूह II (मानव शरीरका काम)**

1. मांसपेशीको संकुचन  
 2. थाइरोक्सिनको बनावट  
 3. रगतको हिमोग्लोबिनको बनौट

	a	b	c
(A)	2	3	1
(B)	2	1	3
(C)	1	3	2
(D)	3	2	1

48. BIMSTEC मा नेपालले कहिले औपचारिक रूपमा प्रवेश पाएको थियो ?  
 (A) December 1998 (B) December 2003  
 (C) February 2004 (D) July 2004

49. संयुक्त राष्ट्र संघको महासभाको सहायक महासचिव पदमा काम गरिसकेका नेपाली को हुन् ?

- (A) ऋषिकेश शाह (B) दुर्गाप्रसाद भट्टराई  
(C) भोजराज घिमिरे (D) कूलचन्द्र गौतम

50. नेपाल भारतबीच सुगौली सन्धी कहिले भएको थियो ?

- (A) 1815 March 1 (B) 1817 April 1  
(C) 1816 June 4 (D) 1816 March 3

51. तल दिइएकोमा सही जोडा मिलाउनुहोस् ।

- | भूमिका/जिम्मेवारी      | संगठन                                   |
|------------------------|---|
| a. भ्रष्टाचारको रोकथाम | 1. World Meteorological Organization    |
| b. मानव संरक्षण        | 2. International Standards Organization |
| c. गुणस्तर नियन्त्रण   | 3. Transparency International           |
| d. मौसम भविष्यवाणी     | 4. UNHCR                                |
- (A) a-1, b-2, c-3, d-4 (B) a-2, b-3, c-4, d-1  
(C) a-3, b-4, c-2, d-1 (D) a-4, b-1, c-2, d-3

52. जोडा मिलाउनुहोस् ।

- | समूह I पुस्तक    | समूह II लेखक      |
|------------------|-------------------|
| a. संकल्प        | 1. योगी नरहरिनाथ  |
| b. इतिहास प्रकाश | 2. भूमक घिमिरे    |
| c. आधी आकाश      | 3. पारिजात        |
| d. जेल जर्नल     | 4. बी.पी. कोइराला |
- (A) a-2, b-1, c-3, d-4 (B) a-1, b-2, c-3, d-4  
(C) a-3, b-2, c-1, d-4 (D) a-4, b-3, c-2, d-1

53. देहायका भनाइहरू राम्ररी पढ्नुहोस् र तल दिएका उत्तरका विकल्पहरूमध्ये सही विकल्प रोज्नुहोस्

1. नेपाल १४ डिसेम्बर १९९५ मा संयुक्त राष्ट्र संघको सदस्य भएको हो ।  
2. नेपाल सबैभन्दा पहिले सदस्य भएको अन्तर्राष्ट्रिय संस्था संयुक्त राष्ट्र संघ हो ।  
(A) 1 र 2 दुवै ठीक (B) 1 र 2 दुवै बेठीक  
(C) 1 बेठीक तर 2 ठीक (D) 1 ठीक तर 2 बेठीक

54. समूह I र समूह II बाट उपयुक्त जोडा मिलाउने प्रयोजनका लागि तल दिइएको कोडबाट सही उत्तर छान्नुहोस् ।

- | समूह I            | समूह II   |
|-------------------|---|
| a. JICA           | 1. स्वीटजरल्याण्ड (Switzerland)                     |
| b. DFID           | 2. संयुक्त राज्य अमेरिका (United States of America) |
| c. USAID          | 3. बेलायत (England)                                 |
| d. Helvetas Nepal | 4. जापान (Japan)                                    |
- (A) a-1, b-2, c-3, d-4 (B) a-4, b-3, c-2, d-1  
(C) a-2, b-3, c-4, d-1 (D) a-4, b-2, c-3, d-1

55. निम्नमध्येमा कसलाई दैव तत्व भनिन्छ ?

- (A) गाज फोनोन (B) ब्राउन मेसोन  
(C) हिग्स बोसोन (D) पाल प्लाज्मोन

56. नेपालमा कुन बैंकलाई सन् २०१२ को वर्षको बैंक घोषणा गरिएको थियो ?  
 (A) कुमारी बैंक (B) स्टान्डर्ड चार्टर बैंक  
 (C) एभरेष्ट बैंक (D) ग्लोबल आईएमई बैंक
57. भारतका विश्व प्रसिद्ध क्रिकेटर सचिन तेन्दुलकरले सबैखाले क्रिकेट खेलबाट कहिले सन्यास लिएका थिए ?  
 (A) 2013 Nov, 16 (B) 2014 Jan, 1  
 (C) 2013 Nov, 1 (D) 2013 Jan, 1
58. समूह I र समूह II बाट उपयुक्त जोडा मिलाउनका लागि तल दिइएको कोडबाट सही उत्तर छान्नुहोस्।
- | समूह I  | समूह II  |
|---|--|
| a. वि.सं. २०६८ को राष्ट्र गौरव मान पदवीबाट विभूषित      | 1. स्व. गणेशमान सिंह                               |
| b. राष्ट्रदीप मान पदवीबाट वि.सं. २०६७ मा विभूषित        | 2. स्व. गिरिजाप्रसाद कोइराला र स्व. मनमोहन अधिकारी |
| c. राष्ट्र गौरव मान पदवीबाट २०६७ वि.सं. मा विभूषित      | 3. अभि सुवेदी                                      |
| d. वि.सं. २०७० को युगकवि सिद्धिचरण पुरस्कारबाट पुरस्कृत | 4. पूर्व प्रधानमन्त्री स्व. कृष्णप्रसाद भट्टराई    |
| (A) a-4, b-1, c-2, d-3                                  | (B) a-1, b-2, c-3, d-4                             |
| (C) a-3, b-4, c-1, d-2                                  | (D) a-2, b-3, c-4, d-1                             |
59. तल दिइएका भनाइमा ठीक, गलत के हुन् छुट्याउनुहोस्।  
 1. दाँत माफ्ने आधुनिक टुथब्रसको आविष्कार चीनमा भएको हो।  
 2. संसारको सबैभन्दा सानो फूलको रूपमा "Duck Weed" लाई मानिन्छ।  
 3. पहिलो इन्टरनेट वेबसाइट सन् १९९० मा प्रयोगमा ल्याईको हो।  
 4. गिरफ्तार गरी कानूनी कारबाहीमा पारिएकी भारतीय कुटनीतिज्ञ देवयानी खोबरागढे हुन्।  
 (A) १ ठीक र अरु गलत हुन् (B) १ र २ ठीक हुन् र ३ र ४ बेठीक हुन्  
 (C) १, २ र ३ ठीक हुन् र ४ गलत हो (D) १, २ र ४ ठीक र ३ गलत हो
60. Long Walk to Freedom नामक प्रसिद्ध आत्म जीवनीका लेखक को हुन् ?  
 (A) महात्मा गान्धी (B) आइसाइड सुकी  
 (C) टोनी ब्लेयर (D) नेल्सन मण्डेला

**Part (B) - Aptitude Test — (25×2) = 50 Marks**

61. If IQS is coded as LNV, then what would be the code for JRM?  
 (A) LOP (B) MOP (C) LIP (D) MOW
62. In a queue, Mr. X is twentieth position from the front and Mr. Y is twenty one position from the end, while Mr. Z is exactly in between Mr. X and Mr. Y. If Mr. X is ahead of Mr. Y and there are 50 persons in the queue, how many persons are there between Mr. X and Mr. Z?  
 (A) 8 (B) 5 (C) 4 (D) 3
63. The total of the ages of Akbar, Amar, Amir and Arjun is 80. What is the total of their ages three years ago?  
 (A) 66 years (B) 68 years (C) 71 years (D) 77 years

64. A shopkeeper fills a basket with eggs in a such way that the number of eggs added on each successive day is the same as the number already present in the basket. This way the basket gets completely filled in 24 days. After how many days the basket was one eight ( $1/8$ ) full?

(A) 21 (B) 12 (C) 6 (D) 4

65. **Direction:** In the following, two statements I and II are given. There may be cause and effect relationship between these. Read both statements and answer as:

**Statements:**

I. A huge truck overturned on the middle of road last night.

II. The police had cordoned of entire area in the locality this morning for half of the day.

- (A) If statement I is the cause and statement II is its effect.  
 (B) If statement II is cause and statement I is its effect.  
 (C) If both the statements I and II are independent causes.  
 (D) If both the statements I and II are effects of independent causes.
66. Find out the alternative that will replace the question mark (?).  
 HS JQ LO NM ?

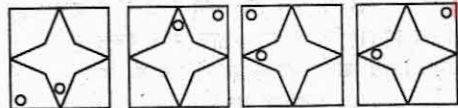
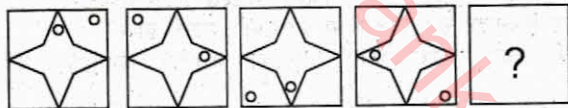
(A) IJ (B) OP (C) KP (D) PK

67. In the following find out the alternative which will replace the question mark (?) :

Line : Square :: Arc : ?


(A) Ring (B) Sphere (C) Circle (D) Ball

68. Which figure should replace the question mark?



(A) (B) (C) (D)

69. Choose the correct water image of the given figure (X) from amongst the four alternatives.



(X) (A) (B) (C) (D)

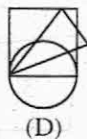
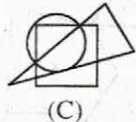
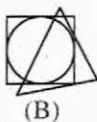
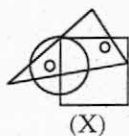
70. What number should replace the question mark?

17, 4, 29, 13, 41, 22, 53, 31, ?

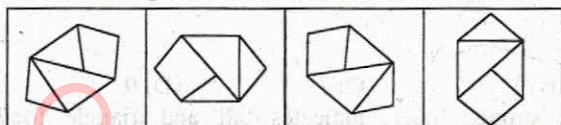
(A) 59 (B) 64 (C) 65 (D) 71



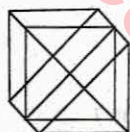
71. Select the figure which satisfies the same conditions of placement of the dots as in Figure X.



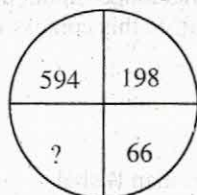
72. Choose the figure which is different from the rest.



73. What is the maximum number of triangles in the given figure?

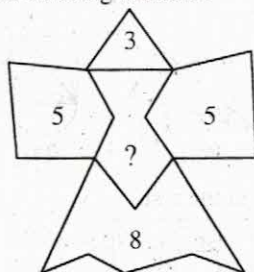


- (A) 18 (B) 20 (C) 24 (D) 27
74. What number should replace the question mark?



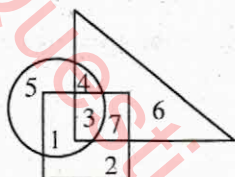
- (A) 11 (B) 12 (C) 22 (D) 33
75. On taking delivery of a consignment of eggs the market stall owner was furious to find that several were cracked. In fact, on counting them up in order to assess the damage he found that 72 were cracked, which was 12 percent of the total consignment. How many eggs in total were in the consignment?
- (A) 550 (B) 575 (C) 600 (D) 625
76. How many steps to the top of the Dharara? asked the tourist. 196 steps plus half the number of steps, replied the guide. How many steps are there to the top of the Dharara?
- (A) 392 steps (B) 294 steps (C) 496 steps (D) 398 steps

77. What is missing number?



- (A) 6 (B) 8 (C) 7 (D) 9

78. Circle indicates 'strong', square indicates 'tall' and triangle 'football players'. The strong 'football players' who are not tall are shown.



- (A) 4 (B) 5 (C) 6 (D) 7

79. The sum of first five prime numbers is:

- (A) 11 (B) 18 (C) 26 (D) 28

80. Of three part-time employees, Manoj works longer hours than Fanindra and Bishal works longer hours than Manoj. In this context which one of the following is correct?

- (A) Manoj works the longest of all  
(B) Fanindra works the longest of all  
(C) Bishal works the longest of all  
(D) both Fanindra and Manoj work longer than Bishal

Directions for the following 5 (five) items: Study the table given below and answer the five items that follows:

Four students W, X, Y, Z appeared in four papers: I, II, III and IV in a test. Their scores out of 50 are given below in the table. Where 'A' stands for absent

Student	Papers			
	I	II	III	IV
W	30	23	26	A
X	31	42	22	28
Y	36	38	A	34
Z	34	A	35	32

81. Which candidate has secured between 60-35% marks in aggregate?

- (A) W (B) X (C) Y (D) Z

82. Who has obtained the lowest average in aggregate?

- (A) W (B) X (C) Y (D) Z

83. Who has obtained the highest average in aggregate?  
 (A) W (B) X (C) Y (D) Z
84. In which paper the lowest marks were obtained by the candidates?  
 (A) I (B) II (C) III (D) IV
85. Which candidate has secured the higher percentage in the papers appeared?  
 (A) W (B) X (C) Y (D) Z

**Part (C) - English Language Competence Test ----- (15×2) = 30 marks**  
**Read the following passage and choose the correct answer of the questions given below:**

Three-fourths of the surface of our planet is covered by the sea, which both separates and unites the various races of mankind. The sea is the great highway along which man may journey at his will, the great road that has no walls or hedges hemming it in, and that nobody has to keep it in good repair with the aid of pickaxes and barrels of tar and steamrollers. The sea appeals to man's love of the perilous and the unknown, to his love of conquest, his love of knowledge, and his love of gold. Its green and grey, and blue and purple waters call to him and bid him fare forth in quest of fresh fields. Beyond their horizon he has found danger and death, glory and gain.

In some great continents such as America and Australia, there are towns and villages many thousands of miles from the coast, whose children have never seen or heard -- or felt ---- the waves of the sea. But in the British Isles it is nowhere much more than a hundred miles from the most inland spot. The love of the sea is in the very blood of the British people.

**Comprehension questions: (5×2 =10)**

86. How much of our planet is not covered by the sea?  
 (A) three-fourths of the planet (B) half of the planet  
 (C) one-fourth of the planet (D) more than one can measure
87. The sea helps a man  
 (A) in raising walls on the coast  
 (B) in building great roads  
 (C) in making journey at his will all around the world  
 (D) in clearing hedges hemming the sea
88. In what way does the sea appeal to man?  
 (A) it invites man to amass gold hidden under the sea water  
 (B) it helps man take lessons from the perilous waves and stay at home  
 (C) it bids man to venture out in quest of new places  
 (D) it makes man wax eloquent about the futility of adventurous deeds
89. The children have not responded to the call of the sea.  
 (A) in remote towns and villages of America (B) in Great Britain  
 (C) in Nepal (D) in India

90. The sea has been compared to  
(A) a steamroller (B) the great highway  
(C) a spacecraft in motion (D) hedges hemming it

**Vocabulary questions : (5 × 2 = 10)**

Choose from the following list of words, a word that is most nearly opposite in meaning to the word capital letters:

91. CONSOLIDATION  
(A) restriction (B) opposition  
(C) fragmentation (D) provocation
92. SECURE  
(A) infest (B) decent (C) implant (D) unfasten
93. VALOR  
(A) admonition (B) injustice  
(C) cowardice (D) generosity
94. LAVISH  
(A) hostile (B) unwashed (C) timely (D) frugal
95. UNEARTH  
(A) conceal (B) gnaw (C) clean (D) react

**Syntactic ability questions : (5 × 2 = 10)**

96. Choose the right verb to show Antecedents agreement:  
Two ladies hand ..... hand bags stolen at the way.  
(A) its (B) his (C) they (D) their
97. Choose the right alternative for the underlined  
Prices are going up by leaps and bounds.  
(A) irregularly (B) rapidly  
(C) gradually (D) systematically
98. Which of the following sentence is grammatically right?  
(A) I am unable to return I don't complete my mission.  
(B) I am unable to return unless I complete my mission.  
(C) I am able to return unless I complete my mission.  
(D) I am able to return, I complete my mission.
99. Which of the following is a noun?  
(A) heighten (B) perceptual (C) abbreviate (D) ignorance
100. Choose the correct alternative of the given sentence for indirect speech.  
He said, "I clean my teeth twice a day."  
(A) He said that he cleaned his teeth twice a day.  
(B) He said that he cleans his teeth twice a day.  
(C) He said that used to clean his teeth twice a day.  
(D) He said that he used to cleaning his teeth twice a day.



# मिति : २०७१/१०/२८ मा सोधिएका प्रश्नहरू

समय : १ घण्टा ३० मिनेट

पूर्णाङ्क : २००

वस्तुगत बहुउत्तर (१०० × २ = २०० अंक)

## Part (A) - General Awareness (60 × 2 = 120 Marks)

- दक्षिण गोलार्द्धमा २१ जुन पछि कुन ऋतु सुरु हुन्छ ?  
(A) शरद ऋतु (B) ग्रीष्म/वर्षा ऋतु  
(C) बसन्त ऋतु (D) शिशिर/जोडा ऋतु

- जोडा मिलाई कोडावाट सही उत्तर छान्नुहोस् ।

समूह 'A'

समूह 'B'

- |                    |            |
|--------------------|------------|
| a. अंकारा          | 1. क्यानडा |
| b. टोरोण्टो        | 2. टर्की   |
| c. रियो द जेनेरिया | 3. ब्राजिल |
| d. मोम्बासा        | 4. केन्या  |

कोड	a	b	c	d
(A)	2	1	3	4
(B)	1	2	3	4
(C)	4	3	1	2
(D)	4	3	2	1

- पूर्वदेखि पश्चिमको क्रममा नेपालका शहरहरूको निम्न कुन समूह ठीक हो ?  
(A) भद्रपुर, भरतपुर, बुटवल, तौलिहवा (B) भरतपुर, भद्रपुर, तौलिहवा, बुटवल  
(C) भद्रपुर, बुटवल, भरतपुर, तौलिहवा (D) भरतपुर, भद्रपुर, बुटवल, तौलिहवा
- अमेरिकी स्वतन्त्रता संग्रामको नारा के थियो ?  
(A) जीवन, स्वतन्त्रता र सुखको खोजी (B) समानता, स्वतन्त्रता र विकास  
(C) समानता, स्वतन्त्रता र स्वायत्तता (D) उपनिवेशवाद उन्मुक्ति
- जाति व्यवस्थाको वर्णन कुन वेदमा गरिएको छ ?  
(A) ऋग्वेद (B) सामवेद  
(C) यजुर्वेद (D) माथिको कुनै पनि होइन
- जोडा मिलानमा तलको कुन चाहिँ ठिक छ ?

समूह 'A'

समूह 'B'

- |                 |            |
|-----------------|------------|
| a. रौतापोखरी    | 1. सुर्खेत |
| b. कामीनी दह    | 2. भोजपुर  |
| c. बुलबुले ताल  | 3. बारा    |
| d. साल्पा पोखरी | 4. उदयपुर  |

(A) a-4, b-1, c-2, d-3

(B) a-4, b-3, c-1, d-2

(C) a-2, b-1, c-4, d-3

(D) a-2, b-1, c-3, d-4

- वायु/हावाको मौसमी परिवर्तन ..... को खास विशेषता हो ।

(A) भूमध्यरेखीय जलवायु

(B) भूमध्यसागरीय जलवायु

(C) मनसुन जलवायु

(D) माथिका सबै जलवायु

8. वेतावती सन्धि कहिले भएको थियो ?  
(A) 1843 B.S. (B) 1842 B.S. (C) 1845 B.S. (D) 1849 B.S.
9. सन् २०११ मा भएको नेपालको जनगणना अनुसार नेपालमा बोलिने भाषाको संख्या कति हो ?  
(A) 110 (B) 113 (C) 119 (D) 123
10. चाँगुनारायणको मन्दिर कुन शैलीमा निर्माण गरिएको छ ?  
(A) प्यागोडा शैली (B) स्तुप शैली  
(C) शिखर शैली (D) माथिको कुनै पनि होइन
11. "शिवलालिक पर्वत श्रृंखला" निम्न मध्ये कुन स्थानमा रहेको छ ?  
(A) तराई प्रदेशमा (B) तराई तथा भित्रि मधेशको बीचमा  
(C) हिमाली प्रदेशमा (D) भित्रि मधेश र हिमाली प्रदेशको बीचमा
12. निम्नमध्ये कुन हिमालको उचाई ४ हजार मिटरभन्दा कम छ ?  
(A) माउण्ट के 2 (B) मनास्लु  
(C) मकालु (D) माउण्ट एलब्रस
13. जोडा मिलाई कोडबाट सही उत्तर छान्नुहोस् ।
- | समूह 'A'           | समूह 'B'         |
|--------------------|------------------|
| a. प्रथम मल्ल राजा | 1. प्रचण्डदेव    |
| b. शान्ति श्री     | 2. प्रताप मल्ल   |
| c. तलेजु भवानी     | 3. अरि देव       |
| d. रानीपोखरी       | 4. महिन्द्र मल्ल |
- (A) a-3, b-4, c-2, d-1 (B) a-3, b-2, c-1, d-4  
(C) a-3, b-1, c-4, d-2 (D) a-1, b-3, c-2, d-4
14. नेपालको कुन स्थानमा सन् १९९२ मा तत्कालीन राजा जय बर्माको पूर्ण कदको शालिक उत्खनन् गरिएको हो ?  
(A) भक्तपुर दरबार स्क्वायर (B) काठमाडौंको मालिगाउँ क्षेत्र  
(C) ललितपुरको जावलाखेलमा (D) काभ्रेको बनेपा
15. लिच्छवीकालमा प्रहरी प्रमुखलाई के भनिन्थ्यो ?  
(A) भट्टनायक (B) बलाध्यक्ष  
(C) दण्डनायक (D) सर्वदण्ड नायक
16. नेपालको लोक सेवा आयोगका पहिलो अध्यक्ष को हुन् ?  
(A) नगेन्द्रमान सिंह प्रधान (B) कुलशेखर शर्मा  
(C) यदुनाथ खनाल (D) चन्द्रबहादुर थापा
17. निम्न मध्ये कुन पदमा नियुक्त हुँदा संसदीय सुनुवाईको प्रक्रिया पूरा गर्न आवश्यक पर्दैन ?  
(A) सर्वोच्च अदालतको न्यायाधीश  
(B) नेपाली राजदूत  
(C) राष्ट्रिय योजना आयोगको  
(D) महालेखा परीक्षक
18. नेपालको न्यायपालिका अन्तर्गत कति ओटा पुनरावेदन अदालत रहेका छन् ?  
(A) 13 (B) 14 (C) 15 (D) 16

प्रश्न नं. 20, 21, 22 र 23 निम्न तालिकाका आधारमा हुनेछ :

The next four questions (Question No. 20, 21, 22 and 23) are based on the following table. Here list I, list II and list III are interrelated among each other. Find the relation among themselves and select the correct answer using the code given below:

समूह (List) I	समूह (List) II	समूह (List) III
a. 2004 B.S.	1. नेपाल सरकार वैधानिक कानून	i. मोहन शमशेर
b. 2007 B.S.	2. नेपाल अधिराज्यको संविधान	ii. पद्म शमशेर
c. 2015 B.S.	3. नेपालको अन्तरिम शासन विधान	iii. राजा महेन्द्र
d. 2047 B.S.	4. नेपालको संविधान	iv. सुवर्ण शमशेर v. विश्वेश्वर प्रसाद कोइराला vi. कृष्ण प्रसाद भट्टराई

19.

कोड	समूह I	समूह II	समूह III
(A)	a	1	i
(B)	b	3	ii
(C)	c	2	iv
(D)	d	4	iii

20.

कोड	समूह I	समूह II	समूह III
(A)	a	1	ii
(B)	b	3	iv
(C)	c	2	v
(D)	d	4	vi

21.

कोड	समूह I	समूह II	समूह III
(A)	a	1	ii
(B)	b	3	iv
(C)	c	4	iii
(D)	e	2	vi

22.

कोड	समूह I	समूह II	समूह III
(A)	b	3	i
(B)	c	1	iv
(C)	d	4	iii
(D)	e	2	vi

23. कुन मुद्रालाई Paper Gold भनेर बुझिन्छ ?

- |                 |                    |
|-----------------|--------------------|
| (A) अमेरिकी डलर | (B) स्टर्लिङ पौण्ड |
| (C) युरो        | (D) एस.डि.आर       |

24. आ.व. २०७१/७२ को बजेट वक्तव्य अनुसार नेपालमा सञ्चालनमा रहेका कतिओटा सार्वजनिक संस्थान खुद नाफामा रहेका छन् ?  
 (A) 15 (B) 17 (C) 19 (D) 21
25. समूह I र II मा जोडा मिलाउनुहोस् र कोडबाट सही उत्तर छान्नुहोस् ।  
 Match list I and II and select the correct answer using the codes given below:

समूह 'A'  
 बुद्धसँग सम्बन्धित घटना

समूह 'B'  
 स्थान

- |                      |             |
|----------------------|-------------|
| a. अन्तिम उपदेश      | 1. बोध गया  |
| b. बुद्धत्व प्राप्ति | 2. कुशीनगर  |
| c. पहिलो उपदेश       | 3. वैशाली   |
| d. मृत्यु            | 4. कोसाम्बी |

कोड (Codes):

	a	b	c	d
(A)	4	1	3	2
(B)	5	2	4	3
(C)	3	1	4	2
(D)	2	3	4	1

26. आर्थिक विकास तथा प्रशासन केन्द्र (CEDA) को स्थापनामा सहयोग गर्ने देश कुन हो ?  
 (A) भारत (B) अमेरिका (C) रुस (D) चीन
27. तेह्रौँ योजनाको अन्त्यसम्म कति प्रतिशत जनसंख्यालाई विद्युतमा पहुँच पुर्याउने लक्ष्य छ ?  
 (A) 83% (B) 85% (C) 87% (D) 90%
28. उत्पादन क्षमताका आधारमा ठूलोबाट सानो जलविद्युत आयोजनाको क्रम कुन सही हो ?  
 (A) कालीगण्डकी, मर्स्याङ्दी, खिम्ती, चिलिमे, भोटेकोशी  
 (B) कालीगण्डकी, भोटेकोशी, खिम्ती, मर्स्याङ्दी, चिलिमे  
 (C) कालीगण्डकी, मर्स्याङ्दी, खिम्ती, भोटेकोशी, चिलिमे  
 (D) मर्स्याङ्दी, कालीगण्डकी, चिलिमे, खिम्ती, भोटेकोशी
29. नेपालको पर्यटनका सम्बन्धमा निम्न कथनहरु विचार गर्नुहोस् ।  
 (1) नेपालमा सबैभन्दा बढी पर्यटक पदयात्राका लागि आउँछन् ।  
 (2) पर्यटन प्रवर्द्धनका लागि नेपाल पर्यटन वर्ष, २०११ मनाइयो ।  
 (3) नेपालमा सबैभन्दा बढी पर्यटक युरोप महादेशबाट आउँछन् ।  
 उपरोक्त कथनमध्ये कुन सही छ/छन् ?  
 (A) सबै (B) १ र २ मात्र  
 (C) २ र ३ मात्र (D) २ मात्र
30. लम्बाईको दृष्टिकोणले छोटो देखि लामोको क्रममा देहायको राजमार्गहरुको कुन क्रम ठीक हो ? चयन गर्नुहोस् ।  
 (A) सिद्धार्थ राजमार्ग, पृथ्वी राजमार्ग, त्रिभुवन राजपथ, मेची राजमार्ग  
 (B) त्रिभुवन राजपथ, पृथ्वी राजमार्ग, सिद्धार्थ राजमार्ग, मेची राजमार्ग  
 (C) मेची राजमार्ग, सिद्धार्थ राजमार्ग, पृथ्वी राजमार्ग, त्रिभुवन राजपथ  
 (D) पृथ्वी राजमार्ग, सिद्धार्थ राजमार्ग, मेची राजमार्ग, त्रिभुवन राजपथ



31. समूह I र समूह II बीच जोडा मिलाउनुहोस् र सही उत्तर छनौट गर्नुहोस् ।

समूह 'A'

समूह 'B'

- |                                    |              |
|------------------------------------|--------------|
| a. मकालु वरुण राष्ट्रिय निकुञ्ज    | 1. रसुवा     |
| b. लाङटाङ राष्ट्रिय निकुञ्ज        | 2. डोटी      |
| c. खप्तड राष्ट्रिय निकुञ्ज         | 3. डोल्पा    |
| d. शे-फोक्सुण्डो राष्ट्रिय निकुञ्ज | 4. संखुवासभा |
| (A) 1-c 2-d 3-b                    | 4-a          |
| (B) 1-d 2-c 3-a                    | 4-b          |
| (C) 1-d 2-a 4-b                    | 4-c          |
| (D) 1-b 2-a 3-d                    | 4-c          |

32. नेपालको कुन ठाउँमा क्रमशः तामा, सुन, फलाम र कोइला पाइन्छ ?

- (A) कुलेखानी, कालीगण्डकी, फुलचोकी, चितवन  
(B) कुलेखानी, काली गण्डकी, प्युठान, पाल्पा,  
(C) चौभार, काली गण्डकी, सल्यान, प्युठान  
(D) फुलचोकी, काली गण्डकी, सल्यान, पाल्पा

33. नेपालको उच्च जनसंख्या भएका पाँच शहरको नाम क्रमशः कुन मिल्छ ?

- (A) काठमाडौं, विराटनगर, पोखरा, ललितपुर र भरतपुर  
(B) काठमाडौं, पोखरा, ललितपुर, विराटनगर र भरतपुर  
(C) काठमाडौं, विराटनगर, ललितपुर, पोखरा र भरतपुर  
(D) काठमाडौं, पोखरा, ललितपुर, भरतपुर र विराटनगर

34. एजेण्डा २१ केसँग सम्बन्धित छ ?

- (A) वातावरण (B) पूर्वाधार विकास  
(C) सामाजिक विकास (D) मानव विकास

35. हरित पेटीका अभियान (Green Belt Movement) का संस्थापक को हुन् ?

- (A) Gaylord Nelson (B) Wangari Maathai  
(C) Paul Watson (D) John Muir

36. राष्ट्रिय जनगणना २०६८ अनुसार नेपालमा महिला परिवार मुली भएका घर परिवारको प्रतिशत कति छ ?

- (A) 25.2 (B) 25.7 (C) 26.9 (D) 28.1

37. साइटिस को प्रधान कार्यालय कहाँ छ ?

- (A) लण्डन (B) पेरिस  
(C) वाशिङ्टन डि.सी. (D) बर्लिन

38. जापानको हिरोसिमामा अगष्ट ६, १९४५ मा विस्फोट गरिएको बमको नाम के थियो ?

- (A) Little boy (B) Little man (C) Fat boy (D) Fat man

39. वस्तुको तौल निम्नमध्ये कुन ठाउँमा लगियो भने उल्लेखनीय किसिमले वृद्धि हुन्छ ?

- (A) ध्रुवविन्दुबाट भूमध्य रेखामा (B) भूमध्यरेखाबाट ध्रुव विन्दुमा  
(C) पहाडको टुप्पोमा (D) पृथ्वीको केन्द्रमा

40. सार्कको अठारौं शिखर सम्मेलनमा सबै आठ सदस्य राष्ट्रहरूले औपचारिक सम्झौता गरी सहमत गरेको विषय कुन हो ?

- (A) वातावरण संरक्षण (B) आप्रवासी कामदारको संरक्षण  
(C) जलविद्युत उर्जा (D) व्यापार सहजीकरण

41. असंलग्न राष्ट्रहरूको सोझै सम्मेलन कुन देशमा भएको थियो ?  
 (A) इरान (B) दक्षिण अफ्रिका  
 (C) क्याम्बोडिया (D) इण्डोनेसिया
42. नेपालमा सर्वप्रथम कहिले संयुक्त राष्ट्र संघको शान्ति सेनामा सहभागी भएको थियो ?  
 (A) 1958 A.D. (B) 1966 A.D.  
 (C) 1974 A.D. (D) 1978 A.D.
43. युनेस्कोको प्रधान कार्यालय ..... मा रहेको छ ।  
 (A) रोम (B) जेनेभा (C) पेरिस (D) न्यूयार्क
44. Jonathan B. Postel Service Award -2014 कसलाई प्रदान गरिएको छ ?  
 (A) एलिजाबेथ जेक फेल्सस (B) महावीर पुन  
 (C) प्रो. किलनाम चोन (D) डा. सन्दुक रुइत
45. टेलिभिजनको अविष्कार कसले गरेका हुन् ?  
 (A) रोजन्टजेन (B) अलेक्जेंडर ग्राहम बेल  
 (C) जोन वियर्ड (D) बेन्जामिन फ्रयाङ्लिन
46. एन्टिबायोटिक्सको विकल्पको रूपमा वैज्ञानिकहरूले विकास गरेको नयाँ औषधिको नाम के हो ?  
 (A) स्टाफेफेक्ट (B) डल्भान्स  
 (C) अर्वाक्टीभ (D) सिभेक्स्टो
47. जोडा मिलाउनुहोस् र सही उत्तर पहिचान गर्नुहोस् ।

**समूह 'A'**

**समूह 'B'**

- |                        |                     |
|------------------------|---------------------|
| a. क्रिस्चीयन वर्नाड   | 1. क्रेस्कोग्राफ    |
| b. लुईसी ब्राउन        | 2. माइक्रोस्कोप     |
| c. एन्टोन भान लिभेनहुक | 3. मुटु प्रत्यारोपण |
| d. जगदीश चन्द्र बोस    | 4. टेस्टट्युब बच्चा |
| (A) 1-c 2-d 3-b        | 4-a                 |
| (B) 1-a 2-c 3-b        | 4-d                 |
| (C) 1-b 2-d 3-a        | 4-c                 |
| (D) 1-a 2-d 3-b        | 4-c                 |

48. निम्न कथनहरूमध्ये सही गलत छुट्याउनुहोस् ।

- |                                       |                 |
|---------------------------------------|-----------------|
| 1. कस्मिक रेज जीवनको लागि खतरापूर्ण छ |                 |
| 2. यसमा प्रोटोन र रेडिएसन हुन्छ       |                 |
| (A) दुवै सही                          | (B) १ सही २ गलत |
| (C) १ गलत २ सही                       | (D) दुवै गलत    |

49. संगठन र मुख्यालयबीच जोडा मिलाउनुहोस् र सही जोडा छान्नुहोस् ।

**संगठन**

**मुख्यालय**

- |  |                        |
|--|------------------------|
| a. संयुक्त राष्ट्र संघीय विश्वविद्यालय     | 1. जेनेभा              |
| b. विश्व व्यापार संगठन                     | 2. वासिङ्गटन डिसी      |
| c. अन्तर्राष्ट्रिय मुद्रा कोष              | 3. नैरोबी              |
| d. संयुक्त राष्ट्र संघीय वातावरण कार्यक्रम | 4. टोकियो              |
| (A) a-4, b-1, c-2, d-3                     | (B) a-1, b-4, c-3, d-2 |
| (C) a-2, b-3, c-4, d-1                     | (D) a-3, b-2, c-1, d-4 |

50. सन् २०१४ को FIFA World Cup का सम्बन्धमा कुन भनाई (हरु) ठीक छ/छन् ?
1. अन्तिम खेल जर्मनी र ब्राजिलबीच भएको थियो ।
  2. सबैभन्दा बढी गोल गर्ने खेलाडी लियोनेल मेसी हुन् ।
  3. सेमीफाइनलमा पुराने राष्ट्रहरु नेदरल्यान्ड, जर्मनी, ब्राजिल र अर्जेन्टिना हुन् ।
- (A) २ र ३ मात्र (B) २ मात्र  
(C) ३ मात्र (D) १ र ३ मात्र
51. राष्ट्रिय जनगणना २०६८ अनुसार नेपालको १५ देखि १९ वर्षभित्रको जनसंख्या कति छ ?
- (A) 51.69% (B) 53.96% (C) 56.69% (D) 56.96%
52. तल दिइएका नेपाली कुटनीतिक सम्बन्ध भएका मुलुक र सम्बन्ध स्थापित भएको वर्ष बीच जोडा मिलाउनुहोस् र सही उत्तर छान्नुहोस् ।
- | मुलुक          | सम्बन्ध स्थापना भएको वर्ष |
|----------------|---------------------------|
| a. अर्जेन्टिना | i. 1963 A.D.              |
| b. बंगलादेश    | ii. 1958 A.D.             |
| c. जर्मनी      | iii. 1972 A.D.            |
| d. इजरायल      | iv. 1962 A.D.             |
- (A) a-i, b-ii, c-iii, d-iv (B) a-ii, b-iii, c-iv, d-i  
(C) a-iii, b-iv, c-i, d-ii (D) a-iv, b-iii, c-ii, d-i
53. निम्न देशका बारेमा विचार गर्नुहोस् ।
1. बुनाई
  2. भियतनाम
  3. लाओस
  4. म्यानमार
- आसियान (ASEAN) को सदस्य माथि उल्लिखित देशहरुमा कुन हो/कुन कुन हुन् ?
- (A) १ र २ मात्र (B) १, २ र ३ मात्र  
(C) १, २ र ४ मात्र (D) १, २, ३ र ४ सबै
54. दुबान्टी-दुबान्टी विश्वकप क्रिकेटको २०१४ को विजेता देश कुन हो ?
- (A) भारत (B) पाकिस्तान  
(C) श्रीलंका (D) बंगलादेश
55. प्रसिद्ध किताब एनिमल फार्म का लेखक को हुन् ?
- (A) जर्ज अर्वेल (B) अर्नेष्ट हेमिङ्वे  
(C) चर्चिल (D) कार्ल मार्क्स
56. 'साढे जुधाई' ..... को राष्ट्रिय खेल हो ।
- (A) इटाली (B) पोल्याण्ड (C) स्पेन (D) स्वीडेन
57. सन् २०१४ मार्च ८ तारिखमा हराएको मलेसिया एयरलाइन्सको उडान नं. ३७० को जहाजले ब्यालालाम्पुर बाट कहाँको लागि उडान भरेको थियो ?
- (A) संघाई (B) बेईजिंग (C) मनीला (D) टोकियो
58. आ.व. २०७१-७२ को बजेट अनुसार सत्तरी वर्ष नाघेका जेष्ठ नागरिकलाई वार्षिक औषधि उपचार खर्चबापत कति प्रदान गरिने छ ?
- (A) Rs. 500/- (B) Rs. 1000/- (C) Rs. 1500/- (D) Rs. 2000/-
59. देहायका मध्ये कसले अर्थशास्त्रको लागि २०१४ को नोबेल पुरस्कार प्राप्त गरेका हुन् ?

- (A) जिन टिगेल (B) यूजिन फामा  
(C) लार्स पिटर हैन्सन (D) एलिमन इ. रोथ
60. समूह I र समूह II मा जोडा मिलाउनुहोस् र सही उत्तर छान्नुहोस् ।

**समूह I**

- a. अल सवाव  
b. वोको हराम  
c. चार्ली हेब्बो  
d. इस्लामिक स्टेट

**समूह II**

1. फ्रान्स  
2. इराक/सिरिया  
3. नाइजेरिया  
4. सोमालिया

(A) a-1, b-2, c-3, d-4

(B) a-2, b-1, c-4, d-3

(C) a-3, b-4, c-2, d-1

(D) a-4, b-3, c-1, d-2

**Part (B) - Aptitude Test (25 × 2) 50 Marks**

61. In a Queue, Mr. X is twentieth position from the front and Mr. Y is twenty one from the last. While Mr. Z is exactly between Mr. X and Y. If Mr. X is ahead of M. How many persons are there between Mr. X and Z?

(A) 8

(B) 10

(C) 9

(D) 8

62. Dress is related to 'Body' in the same ways 'Bangles' is related with:

(A) Glass

(B) Lady

(C) Wrist

(D) Beauty

63. What would replace the question mark in the given series?

B, E, D, F, ?, H, J, ?, L

(A) I, M

(B) M, I

(C) I, N

(D) J, N

64. Find out the alternative which replace the question mark.

South : North West, West ; ?

(A) North

(B) South West

(C) North East

(D) East

65. **Direction:** In the following a statement is given which is followed by three course of action numbered I, II and III you have to assume everything in the statement to be true and then decide of the three suggested courses of action logically follows from pursuing?

Statements: Every year thousands of eligible students do not get admission in colleges both in urban and rural areas after passing their school leaving certificate examination.

Courses of Action:

I. More colleges should be set up in both urban and rural areas.

II. The number of schools in both urban and rural areas should be reduced.

III. More schools should offer vocational courses to equip student for taking their after completing their school education.

(A) Only I follow

(B) Only II and III follow

(C) Only I and III follow

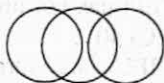
(D) Only I and II follow



66. Which of the following diagram indicates the best relation between Reward, Punishment and reinforcement?




(A)



(B)




(C)

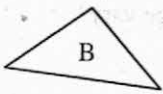


(D)

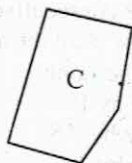
67. Which three of the four pieces can be fitted together to form a rectangle?



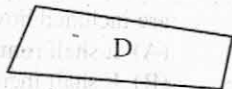
A



B



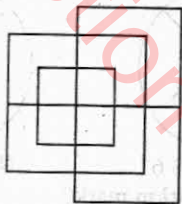
C



D

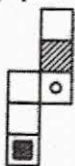
- (A) ABC (B) ACD (C) BAD (D) CBD

68. What is the maximum number of square in the following grid?



- (A) 10 (B) 11 (C) 12 (D) 13

69. Choose the box that is similar to the box formed from the given sheet of paper?



(A)



(B)



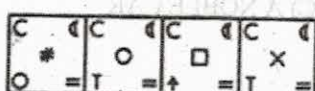
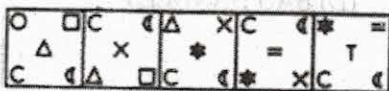
(C)



(D)

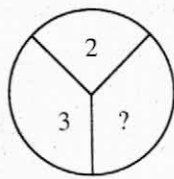
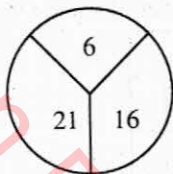
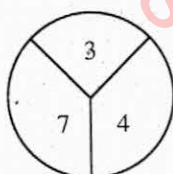
- (A) 1 and 2 only (B) 1, 2 and 4 only  
(C) 1 and 4 only (D) 1, 2 and 3 only

70. Which figure will continue the same series as established in the first series?




- (A) (B) (C) (D)

71. In a game of eight players lasting for 70 minutes, six substitute alternate with each players. This means that all players, including the substitutes, are on the field for the same length of time. For how long?  
 (A) 12 (B) 21 (C) 40 (D) 14
72. If all the letter in the word MERCIFUL are rearranged in alphabetical order and substituted by the alphabet preceding them in the English alphabet what will be the new arrangement of letters?  
 (A) BDHEKLQT (B) BDEHKLQT  
 (C) BDEHLKQT (D) BDEJMLQT
73. The average of three consecutive number is N. If the next two numbers are included how shall the average vary?  
 (A) It shall remain the same  
 (B) It shall increase by 1  
 (C) It shall increase by 1.5  
 (D) It shall increase by 2
74. What number should replace the question mark?

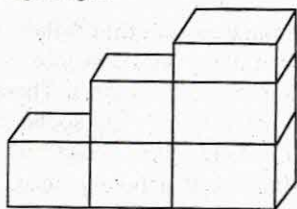


- (A) 2 (B) 4 (C) 6 (D) 8
75. What number should replace the question mark?  
 1, 50, 6, 45, 11, 40, 16, 35, 21, 30, ?  
 (A) 30 (B) 24 (C) 26 (D) 28
76. Which letter goes on empty segment?



- (A) S (B) P (C) Q (D) M
77. Which one of the following is not an anagram of a country?  
 (A) A THIN LAD (B) ALAS I MAY  
 (C) A NOBLE CAR (D) BAG HANDLES

78. Use the diagram below. How many cubes do you need to make the steps 9 steps high.



- (A) 36 cubes (B) 40 cubes (C) 44 cubes (D) 45 cubes
79. Ten years ago P was half of Q in age. If the ratio of their age is 3:4, what will be the total of their present age?  
(A) 45 (B) 40 (C) 35 (D) 30
80. Four people witnessed a mugging. Each gave the different description of the mugger. Which description is probably right?  
(A) He was average height, thin and middle aged.  
(B) He was tall, thin and middle aged.  
(C) He was tall thin and young.  
(D) He was tall, of average weight and middle aged.

**Directions for the following five items:** Study the table given bellow and answer the items follow:

Four students W, X, Y, Z appeared in four papers; I, II, III and IV in a test. Their score out of 100 is given bellow in the table, where 'A' Stands for absent.

Students	Paper			
	I	II	III	IV
W	59	43	51	A
X	60	81	45	55
Y	72	76	A	68
Z	74	A	71	65

81. Which candidate has secured between 60-65 marks in aggregate?  
(A) W (B) X (C) Y (D) Z
82. Who has obtained the lowest average in aggregate?  
(A) W (B) X (C) Y (D) Z
83. Who has obtained the highest average in aggregate?  
(A) W (B) X (C) Y (D) Z
84. In which paper the lowest marks were obtained by the candidates?  
(A) I (B) II (C) III (D) IV
85. Which candidates has highest percentage in the peper appeared?  
(A) W (B) X (C) Y (D) Z

**Part (C) - English Language competence Test (15 × 2) = 30 Marks**

**Attempt all questions**

**Read the passage below and answer the question that follows:**

Through human history there have been many stringent taboos concerning watching other people or eating in the presence of others. There have been attempts explain these taboos in terms of inappropriate social relationships either between those who are involved and those who are not simultaneously involved in the satisfaction of a bodily need, or between those who are already satiated and those who appear to be shamelessly gorging. Undoubtedly, such element exists in the taboo, but there is an additional element with a much more fundamental importance. In prehistoric times whose food was so precious and the onlookers so hungry, not to offer half of the little food only had was unthinkable, since every glance was a plea for life. Further during those times, people existed in nuclear or extended family groups, and the sharing of the food was literally supporting ones family or, by extension, preserving ones self.

86. In support of the argument in the passage about the validity of taboos against eating in the presence the others who are not eating, would imply that the society
- (A) had always had a plentiful supply of food
  - (B) emphasized the need to share worldly good
  - (C) emphasized the value of privacy
  - (D) discouraged social interaction
87. The writers hypothesis concerning the origin of taboos against watching other people eat emphasizes. -
- (A) general palatability
  - (B) religious significance of food
  - (C) limited availability of food
  - (D) various sources of food
88. According to the passage, the author believes that past attempts to explain some taboos concern eating are
- (A) unclear
  - (B) inelegant
  - (B) implausible
  - (D) unimaginatively
89. In developing the main idea of the passage, the writer does one of the following
- (A) gives a systematic picture about family life.
  - (B) recognizes a system designed to guide personal behavior.
  - (C) simplifies a complex biological phenomenon by explain it in terms of social needs. -
  - (D) redefines that earlier attempts to explain the origins of taboos in society.



90. Which one of the following phrases best state the central ideas of the passage  
(A) social relationships (B) survival of the self  
(C) survival of the fittest (D) survival of the group

**Vocabulary Questions:**

91. Choose the right meaning of the given idiomatic phrase; He burnt his finger by interesting in neighbors affair. -  
(A) got himself into trouble (B) burnt himself  
(C) got himself insulted (D) got rebuked
92. Choose the right word or phrase that is nearest in meaning to the given key word DOCILE"  
(A) vague (B) submissive  
(C) stupid (D) stubborn
93. Choose the closet in meaning to the underlined world in the given sentence "Last nights event remarkable."  
(A) happening (B) striking (C) escapade (D) rampage
94. Pick out the world phrase opposite or nearly opposite to the meaning of the given world ANTIPATHY"  
(A) indifference (B) willingness  
(C) fondness (D) liking
95. Choose the right oneword substitution for underlined: "Life history of a person written by another."  
(A) autobiography (B) bibliography  
(C) biography (D) memoir

**Syntactical ability Questions:**

Choose the correct alternative:

96. He enquired  
(A) that where I studied (B) where I studied  
(C) where I will study (D) that where I will study
97. Went to India  
(A) in April 25, 2012 (B) on April 25, 2012  
(C) April 25, 2012 (D) at April 25, 2012
98. The processor and author of this book.....  
(A) has been Dr. Koirala (B) were Dr. Koirala  
(C) is Dr. Koirala (D) are Dr. Koirala
99. Saw  
(A) the cow is let loose (B) the cow is being let loose  
(C) the cow was let loose (D) the cow was already let loose.
100. He attacked -  
(A) on me (B) against me (C) me (D) upon me

**द्वितीय पत्रः शासन प्रणाली**  
**Paper II – Governance System**

**३०७० सालमा सोधिएका प्रश्नहरू**

**Section (A) - 10 Marks × 3 Questions = 30 Marks**

1. शासनको विशिष्ट गुणहरू प्रस्तुत गर्नुहोस् र शासन तथा सरकार बीचका प्रमुख भिन्नताहरू औल्याउनुहोस् । (Give the specific characteristics of governance and show the major differences between governance and government.)
2. नेपालको प्रशासनिक संरचना जनमैत्री बनाउन के कस्ता सुधार आवश्यक ठान्नुहुन्छ ? व्याख्या गर्नुहोस् । (Explain the necessary reform measures to make Nepalese administrative structure people friendly.)
3. नेपालको वर्तमान राजनीतिक, आर्थिक तथा सामाजिक परिवेशमा सूचनाको हकको पूर्ण प्रत्याभूति गराउन राज्य सामू रहेका मुख्य मुख्य चुनौतिहरूको चर्चा गर्दै सूचनाको हक र पारदर्शिताका सीमाहरू उल्लेख गर्नुहोस् । (Briefly explain the challenges that hindering the assurance of right to information in Nepal's current socio-economic and political situation and also mention the limitations of right to information and transparency.)

**Section (B) - 10 Marks × 2 Questions = 20 Marks**

4. नेपालको अन्तरिम संविधान, २०६३ मा राज्यका ३ अंगका बीचमा शक्ति सन्तुलन र नियन्त्रणको प्रभावकारी व्यवस्था कसरी गरिएको छ ? विवेचना गर्नुहोस् । (Discuss how effective check and balance of power between 3 main organs of the state has been managed in the Interim Constitution of Nepal, 2063?)
5. "कानूनी राज्य" को अवधारणाको वर्णन गर्नुहोस् र नेपालमा कानूनी राज्यको अवस्थाको मूल्यांकन गर्नुहोस् । (Explain the concept of "rule of law" and evaluate the state of rule of law in Nepal?)

**Section (C) - 10 Marks × 3 Questions = 30 Marks**

6. राजनीतिक तटस्थता भनेको के हो ? नेपालको सार्वजनिक व्यवस्थापनमा राजनैतिक तटस्थताको प्रयोग सम्बन्धी विद्यमान समस्याहरूको विवेचना गर्नुहोस् । (What is "Political Neutrality"? Identify and discuss the present problems regarding its use in Nepalese public management.)
7. सार्वजनिक सेवा प्रवाहलाई प्रभावकारी तुल्याउन नेपालमा अवलम्वन गरिएका नव प्रवर्तनशील कदमहरू उल्लेख गर्दै सार्वजनिक सेवा प्रवाहलाई प्रभावकारी तुल्याउने क्रममा देखिएका प्रमुख समस्याहरूको समीक्षा गर्नुहोस् । (Mention the innovative initiatives taken for effective public service delivery in Nepal and review the major problems of public service delivery encountered in order to make it effective.)
8. "सार्वजनिक सेवा बडापत्र" का उद्देश्यहरूमाथि प्रकाश पार्दै यसका फाइदाहरू उल्लेख गर्नुहोस् । (Shading light on the objectives of "Public Service Charter", mention its benefits.)

**Section (D) - 10 Marks × 2 Questions = 20 Marks**

- मानव संसाधन विकासको विशेषताहरु उल्लेख गर्दै यसको आवश्यकताको बारेमा प्रष्ट पार्नुहोस् । (Mention the characteristics of human resource development and justify the need of Human Resources Management.)
- सरकारी लेखा प्रणालीबारे चर्चा गर्दै यो प्रणालीबाट नेपालको वित्तीय व्यवस्थापनमा पुगेको योगदानबारे चर्चा गर्नुहोस् । (Explain government accounting system and discuss the contribution of this system to financial management in Nepal.)

**३०७१ सालमा सोधिएका प्रश्नहरु**

**Section (A) - 10 Marks × 3 Questions = 30 Marks**

- नेपालमा विकेन्द्रीकरणका प्रयासहरु उल्लेख गर्दै स्थानीय स्वायत्त शासन ऐन, २०५५ बमोजिम स्वायत्त शासन प्रणालीका विशेषताहरु लेख्नुहोस् । (Mention the efforts of decentralization in Nepal and write the characteristics of local self-governance system based on the Local Self-Governance Act, 1999.) 10
- नेपालको हालको शासन प्रणाली संसदीय शासन पद्धतिग मिल्दोजुल्दो छ भनिन्छ । संसदीय शासन पद्धतिका विशेषतासँग हाम्रो शासन प्रणालीको तुलना गर्नुहोस् । (It is said that Nepal's present governance system is similar to a parliamentary system. Compare our governance system with the characteristics of the parliamentary one.) 10
- शासन प्रणालीको लागि पारदर्शिता किन बान्छनीय छ ? नेपालले शासन प्रणालीलाई पारदर्शी बनाउनको लागि लिएका कदमहरु बताउनुहोस् । (Why transparency is desirable in the goernance system? State the steps taken by Nepal to make the governance system transparent.) (5+5)

**Section (B) - 10 Marks × 2 Questions = 20 Marks**

- नेपालको संवैधानिक विकासक्रम बारेमा प्रकाश पार्दै नेपालको अन्तरिम संविधान, २०६३ का आधारभूत विशेषताहरु के के हुन् ? लेख्नुहोस् । (Describing the constitutional development in Nepal, write down the fundamental features of "Interim Constitution of Nepal, 2063.") (5+5)
- लोकतान्त्रिक शासन पद्धतिमा नागरिक चेतनाको महत्व उल्लेख गर्नुहोस् । राष्ट्र निर्माणको सन्दर्भमा जनताका जिम्मेवारी प्रष्ट पार्नुहोस् । (Mention the importance of the citivzen awareness in democratic governance system. Clarify the people's responsibilities in the context of nation building.) (5+5)

**Section (C) - 10 Marks × 3 Questions = 30 Marks**

- विद्युतीय शासन भनेको के हो ? नेपालमा विद्युतीय शासनको सम्भावना बारे टिप्पणी गर्नुहोस् । (What is e-governance? Briefly comment on the prospective of e-governance in Nepal.) (3+7)
- नेपालमा सार्वजनिक कोषको सदुपयोग गर्न के कस्तो व्यवस्था गरिएको छ ? उल्लेख गर्दै सार्वजनिक कोष सदुपयोग गर्दा नैतिकताको भूमिकाको चर्चा गर्नुहोस् । (What



are the provisions for proper utilization of public funds in Nepal? Illustrate role of morality in utilizing public funds.) (5+5)

8. नेपालको सार्वजनिक सेवा प्रवाह प्रभावकारी हुन सकेको छैन भन्ने जनगुनासो रहेको छ । यसलाई प्रभावकारी के कस्ता उपायहरू अवलम्बन गर्नुपर्ला ? सुझाव दिनुहोस् । ("The public service delivery is not effective in Nepal" as complained by general people. What should be done in order to make it effective? Suggest.) 10

**Section (D) - 10 Marks × 2 Questions = 20 Marks**

9. नेपालको सार्वजनिक सेवामा मेधावी जनशक्ति आकर्षण गर्न र ती जनशक्तिको कार्य सम्पादन स्तर अच्चल बनाइ राख्न लोक सेवा आयोग र सेवा सञ्चालन गर्ने निकायले के कस्तो भूमिका निर्वाह गर्नुपर्ने ठान्नुहुन्छ ? उल्लेख गर्नुहोस् । (What are the important roles that you consider to be played by public service commission and operating agency to attract talented human resource with higher level of performance?) (5+5)
10. सहभागितामूलक योजनाको सन्दर्भमा नेपालमा भएका सुधार प्रयासहरूको सिंहावलोकन गर्नुहोस् । (In the context of participatory planning, evaluate briefly on the reform efforts taken in Nepal.) 10



**तृतीय पत्र:- समसामयिक विषय**  
**Paper III - Contemporary Issues**

**३०७० सालमा सोधिएका प्रश्नहरू**

**Section (A) - 10 Marks × 3 Questions = 30 Marks**

1. नेपालमा भ्रष्टाचार वृद्धि हुनुका कारणहरू उल्लेख गर्दै भ्रष्टाचार नियन्त्रण गर्न के कस्तो उपायहरू अवलम्बन गर्नुपर्ला ? आफ्नो सुझाव दिनुहोस् । (State the causes of corruption increase in Nepal. What measures shall be taken to control corruption, give your own suggestions.)
2. सामाजिक द्वन्द्वको परिचय दिदै नेपालमा देखिदै आएको सामाजिक द्वन्द्वका प्रमुख श्रोत तथा कारणहरू के के रहेको पाउनुहुन्छ ? चर्चा गर्नुहोस् । (Introduce the concept of social conflict. What are the major sources and causes of social conflict in Nepal? Explain.)
3. जनसंख्या वृद्धिका कारणहरू के के हुन् ? जनसंख्या वृद्धिले विकासोन्मुख राष्ट्रमा पार्ने असरहरूबारे विवेचना गर्नुहोस् । (What are the reasons of population growth? Explain the impacts of population growth in the developing nations.)

**Section (B) - 10 Marks × 2 Questions = 20 Marks**

4. वैदेशिक लगानी भन्नाले के बुझ्नुहुन्छ ? आर्थिक विकास र वैदेशिक लगानीको अन्तरसम्बन्धको विवेचना गर्नुहोस् । (What do you mean by Foreign Investment? Describe the interrelation between Economic development and Foreign Investment.)
5. "गरिबी र बेरोजगारी बीच अन्योन्याश्रित सम्बन्ध छ" पुष्टि गर्नुहोस् । ("Poverty and unemployment are inter-related". Prove this statement.)

**Section (C) - 10 Marks × 3 Questions = 30 Marks**

6. विकासको लागि सरकारी र निजी क्षेत्रबीच सहकार्यको अवधारणाबारे विवेचना गर्नुहोस् । नेपालमा यस अवधारणाको भविष्य कस्तो देखिनुहुन्छ ? (Explain the concept of Public Private Partnership (PPP) for development. How do you see the future prospects of this concept in Nepal.)
7. अल्पविकसित देशहरूमा दिगो विकासको वातावरणीय आयाम र प्राकृतिक स्रोत साधनमाथिको निर्भरता बीच कसरी सामञ्जस्यता गर्न सकिनेला ? चर्चा गर्नुहोस् । (How least-developed countries can harmonize their dependency on natural resources with environmental aspect of sustainable development? Describ.)
8. नेपालको विकास प्रक्रियामा राज्य र विकेन्द्रीकरणको भूमिको विस्तृत विवेचना गर्नुहोस् । (Analyse the role of state and decentralization in the development process of Nepal.)

**Section (D) - 10 Marks × 2 Questions = 20 Marks**

9. नेपालमा उर्जा संकटको सामाजिक तथा आर्थिक सम्बेदनशीलता के के रहेका छन् ? मुलुकमा वैकल्पिक तर बातावरणमैत्री उर्जाका स्रोतको प्रवर्द्धनका लागि चालिनु पर्ने प्रभावकारी उपायका बारेमा सुझाव प्रस्तुत गर्नुहोस् । (What are the social and economic sensitivity of energy crisis in Nepal? Suggest effective measures to be realized for promoting alternative but environment friendly sources of energy in the country)
10. जलवायु परिवर्तन भनेको के हो ? जलवायु परिवर्तनका असरहरु र ती असरहरुलाई कम गर्न अपनाउनु पर्ने उपायहरु उल्लेख गर्नुहोस् । (What is climate change? Mention the effects of climate change and the measures to mitigate those effects.)